




Praca z mapą

1. Wskaż na mapie główne kierunki ekspansji portugalskiej, hiszpańskiej i angielskiej oraz odczytaj czas ich trwania.
2. Podaj, które z mocarstw europejskich zdołały zorganizować wyprawy dookoła świata.
3. Korzystając z wiedzy pozarzędłowej, wyjaśnij, czy w XVI w. znane były Europejczykom wszystkie kontynenty świata.

LEGENDA	
 F. Drake 1577-1580	trasa wyprawy, czas jej trwania i nazwisko dowódcy
	obszar Hiszpanii
	obszar Portugalii
	1. Rzeka Świętego Wawrzyńca
	2. Morze Karaibskie
	3. Wyspy Zielonego Przylądka
	4. Przylądek Biały

Wielkie odkrycia geograficzne w XV–XVI w.

